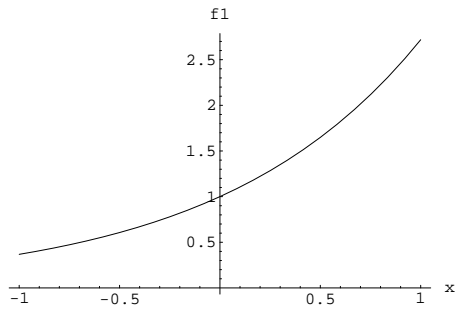


MATEMÁTICAS - (LDO. EN BIOLOGÍA. PRIMER CURSO)

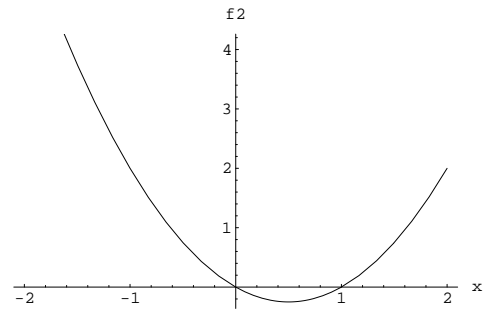
Relación de ejercicios N<sup>o</sup> 2. Curso 2006-2007.

1. ¿Qué funciones de la figura 1 tienen derivada positiva en todo su dominio de definición?
2. ¿Qué funciones de la figura 1 tienen derivada segunda positiva en todo su dominio de definición?

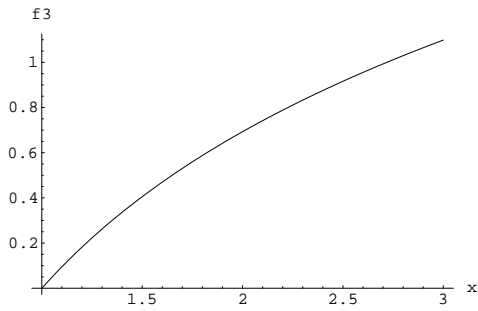
a)



b)



c)



d)

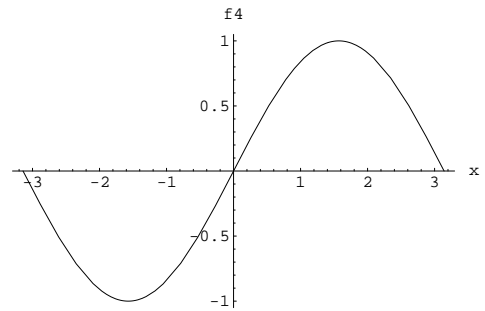


Figure 1: Gráficas de las funciones